




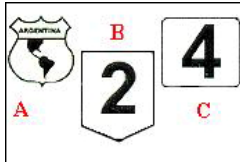








## Preguntas Categoría C y E


	<p>Los vehículos de transporte y maquinaria especial deben llevar en la parte trasera:</p> <p><b>A. Un círculo reflectivo indicador de la velocidad máxima que les está permitida desarrollar.</b></p> <p>B. Un círculo reflectivo con los pesos máximos transmitidos a la calzada.</p> <p>C. Nombre o razón social, domicilio legal del propietario del vehículo y teléfono.</p>
	<p>¿Cual es la velocidad máxima que puede alcanzar en ruta un vehículo que transporta sustancias peligrosas?</p> <p>A. 100 km./h.</p> <p>B. 90 km./h.</p> <p><b>C. 80 km./h.</b></p>
	<p>Si Ud. conduce un vehículo destinado al transporte de mercancías que tiene una masa máxima autorizada superior a 3.500 kilogramos, no deberá circular si la concentración de alcohol en sangre es superior a:</p> <p>A. 0,50 gramos de alcohol por litro.</p> <p>B. 0,20 gramos de alcohol por litro.</p> <p><b>C. 0,00 gramos de alcohol por litro.</b></p>
	<p>Como norma general, ¿podría Ud. utilizar la banquina de una vía interurbana para situar su camión y efectuar así su descarga?</p> <p><b>A. No.</b></p> <p>B. Sí, siempre que no moleste a otros usuarios.</p> <p>C. Sí, siempre que el conductor esté en el vehículo.</p>
	<p>¿Cuándo un vehículo está estacionado?</p> <p>A. Cuando para, a fin de cargar o descargar mercadería.</p> <p>B. Cuando para, a fin de que asciendan o desciendan pasajeros.</p> <p><b>C. Cuando para, por mas tiempo que el necesario para carga o descarga o subir o bajar pasajeros.</b></p>
	<p>La presión de los neumáticos ¿será la misma para un camión estando cargado o sin carga?</p> <p>A. Sí, ya que la diferencia de peso entre un camión con carga y sin ella no justifica la modificación de la presión de los neumáticos.</p> <p><b>B. No, es muy importante adaptar la presión de los neumáticos en cada situación (con carga o sin ella).</b></p> <p>C. Sí, solo se debe modificar la presión de los neumáticos cuando el camión deba recorrer un largo trayecto en una ruta.</p>

	<p>Con carácter general ¿Cuál es la velocidad mínima permitida en avenidas?</p> <p>A. 40 km/h.  B. 20 km/h.  <b>C. 30 km/h.</b></p>
	<p>El conductor que transporte mercancías peligrosas es responsable de:</p> <p>A. El suministro de equipos necesarios para situaciones de emergencia.  B. La adecuada rotulación, etiquetamiento y embalaje de las mercancías peligrosas.  <b>C. La guarda, conservación y buen uso del equipamiento y accesorios del vehículo durante el viaje.</b></p>
	<p>Determine qué indica la señal que a continuación se presenta:</p> <p>A. Prohibición de Girar a la Derecha.  B. Prohibición de Adelantar.  <b>C. Prohibición de Cambiar de Carril.</b></p>
	<p>Determine qué indica la señal que a continuación se presenta:</p> <p>A. Prohibición de Estacionar.  B. Prioridad Tránsito Pesado.  <b>C. Prohibición de Circular (Tránsito Pesado).</b></p>
	<p>Determine qué indica la señal que a continuación se presenta:</p> <p>A. Estacionamiento Permitido.  B. Permitido Adelantar.  <b>C. Preferencia de Avance.</b></p>
	<p>Determine qué indica la señal que a continuación se presenta:</p> <p><b>A. Zona Escolar.</b>  B. Calle Peatonal.  C. Puesto Policial.</p>
	<p>El largo máximo de los camiones simples debe ser de:</p> <p><b>A. 13,2 metros.</b>  B. 15,0 metros  C. 18,0 metros.</p>

	<p>Determine qué indica la señal que a continuación se presenta:</p> <p><b>A. Comienzo de Autopista.</b>  B. Cruce Ferroviario.  C. Prohibición de Adelantar.</p>
	<p>El largo máximo de los camiones con acoplado debe ser de:</p> <p>A. 13,2 metros.  <b>B. 20,0 metros.</b>  C. 25,0 metros.</p>
	<p>Determine qué indica la señal que a continuación se presenta:</p> <p><b>A. Panel de Prevención (Objeto Rígido).</b>  B. Calzada Reducida.  C. Contramano.</p>
	<p>Determine qué indica la señal que a continuación se presenta:</p> <p>A. Cruce Ferroviario.  B. Prohibición de Girar.  <b>C. Panel de Prevención (Curva).</b></p>
	<p>Determine qué indica la señal que a continuación se presenta:</p> <p>A. Fin de Doble Mano de Circulación.  B. Prohibición de Circular Tránsito Pesado.  <b>C. Fin de Autopista.</b></p>
	<p>Determine qué indica la señal que a continuación se presenta:</p> <p><b>A. Hombres Trabajando.</b>  B. Zona Escolar.  C. Senda Peatonal.</p>
	<p>Determine qué indica la señal que a continuación se presenta:</p> <p>A. Prioridad Tránsito Liviano.  <b>B. Indicador de Carriles.</b>  C. Ceda el Paso.</p>

	<p>Determine qué indica la señal que a continuación se presenta:</p> <p>A. Bifurcación de Calzada.  <b>B. Cruce Ferroviario</b>  C. Senda Peatonal.</p>
	<p>A que punto de referencia hace alusión la señal que a continuación se presenta:</p> <p>A. Servicio mecánico.  <b>B. Gomería.</b>  C. Estación de servicio.</p>
	<p>Determine qué indica la señal que a continuación se presenta:</p> <p><b>A. Limitación de altura.</b>  B. Limitación de ancho.  C. Limitación de peso.</p>
	<p>Determine qué indica la señal que a continuación se presenta:</p> <p>A. Máximo Largo Permitido.  <b>B. Aviso de próxima altura limitada.</b>  C. Calle Cerrada.</p>
	<p>¿Cual de la tres señales indica que la ruta es provincial?</p> <p>A. La señal A.  B. La señal B.  <b>C. La señal C.</b></p>
	<p>Determine qué indica la señal que a continuación se presenta:</p> <p>A. Aviso de próximo alto limitado.  <b>B. Ancho limitado.</b>  C. Reducción de Calzada.</p>
	<p>Determine qué indica la señal que a continuación se presenta:</p> <p>A. Limitación de altura.  <b>B. Limitación de peso.</b>  C. Limitación de ancho.</p>

	<p>Determine qué indica la señal que a continuación se presenta:</p> <p>A. Limitación largo de vehículo.  B. Circulación exclusiva (camión).  <b>C. Tránsito pesado a la derecha.</b></p>
	<p>Determine qué indica la señal que a continuación se presenta:</p> <p>A. Limitación largo de vehículo.  <b>B. Prohibición de circular (acoplado).</b>  C. Prohibición de circular (camión).</p>
	<p>A que punto de referencia hace alusión la señal que a continuación se presenta:</p> <p><b>A. Taxi.</b>  B. Gomería.  C. Terminal de ferrocarril.</p>
	<p>Determine qué indica la señal que a continuación se presenta:</p> <p>A. Limitación largo de vehículo.  <b>B. Circulación exclusiva (transporte público).</b>  C. Tránsito pesado a la derecha.</p>
	<p>Para circular con una correcta presión de inflado en los neumáticos hay que:</p> <p>A. Comprobar nuevamente la presión cuando el neumático se calienta.  B. Disminuir la presión un 10%, aproximadamente, si se va a circular a plena carga y velocidad elevada.  <b>C. Comprobar la presión cuando el neumático esté frío.</b></p>
	<p>Los matafuegos que exige la Ley ¿son de igual capacidad (contenido de material extintor) para todos los vehículos?</p> <p><b>A. No, según la capacidad y el uso del vehículo se exigen matafuegos de mayor o menor capacidad de extinción.</b>  B. Sí, no existe relación entre la capacidad del matafuego y la capacidad y uso del vehículo.  C. Según el criterio del transportista.</p>
	<p>¿Qué antigüedad máxima (en años), debe poseer un vehículo afectado al servicio de transporte de sustancias peligrosas?</p> <p><b>A. 10 años.</b>  B. 5 años.  C. 15 años.</p>

	<p>¿Qué antigüedad máxima (en años), debe poseer un vehículo afectado al servicio de carga?</p> <p>A. 5 años.  B. 15 años.  <b>C. 20 años.</b></p>
	<p>¿Cuál es la velocidad máxima de circulación para los transportes de carga en calles?</p> <p><b>A. 40 km/h.</b>  B. 25 km/h.  C. 60 km/h.</p>
	<p>¿Cual es la velocidad máxima que puede alcanzar un camión que circula por una ruta cuando atraviesa una zona urbana, salvo señalización que indique lo contrario?</p> <p><b>A. 60 km./h.</b>  B. 70 km./h.  C. 80 km./h.</p>
	<p>Como consecuencia de un accidente de tránsito, el individuo podrá resultar responsable civil y/o penal, por los daños causados. Cuando hablamos de responsabilidad penal nos referimos a:</p> <p><b>A. La posible aplicación de una sanción privativa de la libertad; y/o inhabilitación para conducir; y/o multa.</b>  B. El pago de una indemnización por el daño causado.  C. Solo el pago de una multa.</p>
	<p>El vehículo que se observa en la fotografía lleva una señal de color naranja con reborde negro, compuesta por dos rectángulos y números en su interior ¿qué significa?</p>  <p><b>A. Que el vehículo transporta mercancía peligrosas determinadas por los números.</b>  B. Que el vehículo excede en masas y dimensiones.  C. Que el vehículo lleva una patente extranjera.</p>

	<p>Determine qué indica la señal que a continuación se presenta:</p> <p>A. Rotonda.  <b>B. Calzada dividida.</b>  C. Inicio doble mano.</p>
	<p>Determine qué indica la señal que a continuación se presenta:</p> <p>A. Estrechamiento (en una mano).  B. Calzada dividida.  <b>C. Estrechamiento (en las dos manos).</b></p>
	<p>Determine qué indica la señal que a continuación se presenta:</p> <p><b>A. Desvío</b>  B. Calzada Dividida.  C. Cruce Peligroso.</p>
	<p>Determine qué indica la señal que a continuación se presenta:</p> <p>A. Doble Mano de Circulación.  <b>B. Esquema de Recorrido.</b>  C. Ceda el Paso.</p>
	<p>Determine qué indica la señal que a continuación se presenta:</p> <p><b>A. Túnel.</b>  B. Puente angosto.  C. Altura mínima.</p>
	<p>Determine qué indica la señal que a continuación se presenta:</p> <p><b>A. Detención transporte público de pasajeros.</b>  B. Terminal de ómnibus.  C. Circulación exclusiva (transporte público).</p>
	<p>En materia de señalamiento horizontal o demarcación horizontal ¿qué se entiende por "isleta"?</p> <p><b>A. Son las marcas canalizadoras de tránsito. No se puede traspasar o circular sobre ellas.</b>  B. Son marcas en la calzada que indican lugares donde está permitido detenerse.  C. Son marcas en la calzada que indican lugares donde está permitido estacionarse y/o detenerse</p>

	<p>Con carácter general, cuando nos encontramos con una señal de "NO ESTACIONAR NI DETENERSE" ¿está permitido parar para cargar y descargar mercadería?</p> <p>A. Si  <b>B. No.</b>  C. Según la hora</p>
	<p>En materia de tránsito, entre lo que establece la reglamentación, lo que dicen las señales de tránsito y lo que indica la autoridad, ¿qué debemos cumplir?</p> <p><b>A. Lo que indica la autoridad, lo que dicen las señales de tránsito y/o lo que establecen las reglamentaciones, en ese orden.</b>  B. Lo que indica la ley, lo que dicen las señales de tránsito y lo que indica la autoridad, en ese orden.  C. Lo que dicen las señales de tránsito, lo que indica la autoridad y lo que establecen las reglamentaciones, en ese orden.</p>
	<p>Ingerir alimentos antes de conducir puede afectar negativamente a la conducción. Por tanto, antes de iniciar un viaje y para evitar la aparición de sueño debe:</p> <p>A. Abstenerse de ingerir alimentos para viajar en ayunas.  B. Ingerir alimentos de alto contenido en grasas, que dan mayor vitalidad.  <b>C. Ingerir alimentos ligeros, de bajo poder calórico, que son de fácil digestión.</b></p>
	<p>Ud. circula con su camión por un camino angosto y un automóvil desea sobrepasarlo ¿está obligado a facilitar al automóvil dicha maniobra?</p> <p>A. Sí, disminuyendo la velocidad y permaneciendo en el carril derecho.  B. No, en caminos angostos está prohibido realizar la maniobra de adelantamiento.  <b>C. Sí, se debe facilitar el adelantamiento corriéndose a la banquina periódicamente.</b></p>
	<p>Cuando la luz roja del semáforo peatonal se torna intermitente ¿Qué conducta debe tomar el peatón que espera para cruzar?</p> <p>A. No comenzar a cruzar la calzada.  B. Si está cruzando, finalizar el cruce con mucha precaución.  <b>C. Ambas respuestas (a y b) son correctas.</b></p>
	<p>En un incidente de tránsito ¿qué significa que el conductor es considerado responsable por impericia?</p> <p><b>A. Que no ha respondido adecuadamente a una circunstancia del tránsito por falta de conocimiento o práctica en la conducción.</b>  B. Que ha realizado un acto con su vehículo que las reglas de prudencia indican no hacer, o sea, que ha actuado peligrosamente.  C. Que ha tenido una conducta negligente al circular con un vehículo en mal estado.</p>



	<p>Según la Ley N° 24.449, ¿qué indica un cordón pintado de color rojo?</p> <p>A. Que está prohibido estacionar, pudiendo efectuarse la detención para ascenso y descenso de pasajeros.</p> <p>B. Que ese un espacio reservado al estacionamiento exclusivo de vehículos destinados a servicio de emergencia.</p> <p><b>C. Que está prohibido estacionar o detenerse al costado de la acera.</b></p>
	<p>Según la Ley N° 24.449, ¿qué indica un cordón pintado de color amarillo?</p> <p><b>A. Indica que sólo está prohibido estacionar, pudiendo efectuarse detenciones para ascenso y descenso de carga y pasajeros.</b></p> <p>B. Indica que es un lugar reservado para el estacionamiento exclusivo de vehículos destinados al transporte de pasajeros.</p> <p>C. Indica que está prohibido estacionar o detenerse al costado de la acera.</p>
	<p>Los vehículos afectados al control del tránsito ¿pueden detenerse en cualquier parte de la vía pública?</p> <p>A. No, sólo pueden hacerlo en los lugares en donde esté permitido detenerse.</p> <p><b>B. Sí, cuando realicen tareas de control, siempre que no constituyan un obstáculo peligroso para otros vehículos.</b></p> <p>C. Sí, porque al ser un servicio de emergencia las restricciones en cuanto a la detención en la vía pública no los abarcan.</p>
	<p>En la ciudad de Mercedes por Ordenanza esta prohibido estacionar camiones:</p> <p>A. En la zona céntrica</p> <p><b>B. En las calles pavimentadas</b></p> <p>C. En las avenidas</p> <p>D.</p>
	<p>De acuerdo a lo que establece la Ley Nacional (24.449) y su reglamentación, con respecto al vehículo ¿qué documentación debe llevar?</p> <p>A. Recibo de pago de patente y cédula verde.</p> <p>B. Recibo de pago de patente y comprobante de pago del seguro.</p> <p><b>C. Recibo de pago de patente, comprobante del seguro, cédula verde, y cuando correspondiera (taxi, remis, etc.) comprobante de verificación técnica del vehículo y habilitación.</b></p>
	<p>El alcohol produce en el conductor:</p> <p>A. Un aumento del campo visual.</p> <p><b>B. Un estado de euforia y de falsa seguridad en sí mismo.</b></p> <p>C. Una reducción del tiempo de reacción.</p>

	<p>Se considera a la niebla un factor de riesgo porque:</p> <p><b>A. Reduce el alcance de la visibilidad, produce condiciones resbaladizas en la calzada e induce a calcular mal las distancias.</b></p> <p>B. Aumenta la percepción de objetos pero se modifica la percepción de la distancia.</p> <p>C. Ambas respuestas, la a y la b, son correctas.</p>
	<p>Para indicar las velocidades máximas a desarrollar en zonas donde es habitual la formación de bancos de niebla, se utilizan señales horizontales en forma de letra V invertida ¿cómo se saben o reconocen esas velocidades máximas?</p> <p>A. Cuando un conductor alcanza a ver sólo una señal V invertida, la velocidad máxima no deberá superar los 40 km./h.</p> <p>B. Si alcanza a ver dos señales V invertidas, la velocidad máxima no deberá superar los 60 km/h.</p> <p><b>C. Lo indicado en a y b.</b></p>
	<p>¿Qué debe entenderse por tara de un vehículo?</p> <p>A. El peso del vehículo más su carga y sus ocupantes.</p> <p><b>B. El peso del vehículo descargado.</b></p> <p>C. Sólo el peso de la carga que transporta el vehículo.</p>
	<p>¿Porque se hace necesario contar con una Red que posea un pavimento acorde con la circulación de vehículos de tránsito pesado?</p> <p>A. Para no generar inconvenientes durante la circulación.</p> <p>B. Para conseguir un adecuado ordenamiento circulatorio.</p> <p><b>C. Ambas respuestas, la a y la b, son correctas.</b></p>
	<p>Las dimensiones máximas de los vehículos de carga deben ser de:</p> <p><b>A. 2,60 metros de ancho y 4,10 metros de alto.</b></p> <p>B. 2,60 metros de alto y 4,10 metros de ancho.</p> <p>C. 2,60 metros de ancho y 3 metros de alto.</p>
	<p>¿Porque es necesario establecer límites en las dimensiones y la transmisión de la carga por eje en los vehículos pesados?</p> <p><b>A. Por razones de seguridad y para conservación de la estructura vial.</b></p> <p>B. Para obtener un adecuado ordenamiento circulatorio.</p> <p>C. Para facilitar su control.</p>

	<p>Si al aproximarse a una bocacalle sin semáforo, Ud. advierte que un peatón pretende efectuar el cruce desde su izquierda hacia su derecha, ¿qué deberá hacer?</p> <p><b>A. Cederle el paso, pues el peatón tiene prioridad.</b></p> <p>B. Avanzar a velocidad precautoria, pues sólo tiene prioridad aquel que viene por la derecha.</p> <p>C. La prioridad de paso es del vehículo ya que su marcha es más difícil de controlar.</p>
	<p>Todo usuario de la vía pública debe, como premisa básica:</p> <p><b>A. Asumir la obligación de no generar peligro innecesario</b></p> <p>B. Acreditar experiencia de manejo en vehículos, que por su categoría de licencia le corresponda, no menor a un año</p> <p>C. Concurrir a cursos de actualización en temática vial, con una frecuencia no mayor a seis meses.</p>
	<p>En materia de responsabilidad Civil, ¿qué es lo que se considera como factor determinante para dar inicio a una demanda?</p> <p>A. La intención de la conducta dañosa;</p> <p><b>B. La existencia de un daño real que afecte a algún particular, provocado como consecuencia del accidente</b></p> <p>C. La edad de la persona que provoca el daño.</p>
	<p>En materia de responsabilidad Penal, ¿puede ésta transferirse de una persona (por ejemplo, el conductor del vehículo que provoca el accidente) a otra (por ejemplo, el dueño del vehículo)?</p> <p><b>A. No, porque la responsabilidad penal es intransferible.</b></p> <p>B. Sí, y de éste último también puede transferirse a la Compañía de Seguros.</p> <p>C. El Juez resolverá en función de la gravedad del accidente y sus consecuencias.</p>
	<p>En cualquier circunstancia o situación posible, durante la circulación, ¿a qué le prestaría atención Ud. a fin de aumentar su seguridad y la de otros?</p> <p>A. El estado del pavimento, del auto y el clima</p> <p><b>B. Las condiciones en que se encuentra el automóvil, las condiciones relativas a infraestructura vial, las condiciones climáticas y el estado del conductor</b></p> <p>C. Las condiciones en que se encuentra el conductor, caudal de tránsito y tipo de cubiertas.</p>

	<p>¿Cuáles son los números de emergencia que todo usuario de la vía pública debe conocer con el objetivo de poder llamar y pedir ayuda ante un accidente de cualquier índole?</p> <p>A. 211 y/o 109.  B. 112 y/o 110.  <b>C. 911 y/o 147.</b></p>
	<p>En caso de niebla si el conductor reduce la velocidad de circulación de su vehículo, ¿disminuiría la posibilidad de causar un accidente de tránsito?</p> <p>A. Solo en la medida en que el conductor no conserve su derecha.  <b>B. Siempre, ya que la velocidad es un factor esencial por sí mismo en la producción de accidentes de tránsito.</b>  C. Siempre y cuando la densidad del banco de niebla sea excesivamente intensa.</p>
	<p>La niebla, como factor de riesgo produce modificaciones en:</p> <p><b>A. El campo visual del conductor y su percepción del entorno, la capacidad lumínica del vehículo como la adherencia de sus cubiertas y la respuesta del pavimento.</b>  B. El campo visual del conductor y el estado del pavimento.  C. Sólo afecta la capacidad lumínica del vehículo y la respuesta de sus cubiertas en el avance.</p>
	<p>Ante la presencia de bancos de niebla y a fin de reducir riesgos, ¿qué es lo que se recomienda?</p> <p>A. Utilizar las luces rompeniebla, lo cual es suficiente porque permite ampliar la visibilidad del conductor.  <b>B. Conducir con ambas manos en el volante, reducir la velocidad, aumentar la distancia entre vehículos y utilizar las luces del vehículo correspondientes.</b>  C. Detenerse en la banquina hasta que levante el banco de niebla.</p>
	<p>Durante la circulación, el uso de telefonía celular está prohibida para el conductor porque en tanto factor de riesgo:</p> <p>A. Disminuye su capacidad atencional y limita el sentido de la audición, aumentando el tiempo de reacción.  B. Debido a que el conductor debe mantener ambas manos comprometidas en la acción de conducir, el equipo celular reduciría la capacidad para maniobrar.  <b>C. Ambas respuestas (a y b) son correctas</b></p>

	<p>Durante la circulación, la prohibición del uso de telefonía celular afecta también al acompañante:</p> <p>A. En condiciones normales, no; pero sí cuando la circulación se realiza en condiciones de máximo peligro.</p> <p><b>B. La prohibición del uso de telefonía celular afecta sólo al conductor del vehículo.</b></p> <p>C. Ambas respuestas (a y b) son correctas</p>
	<p>Ante un eventual control de tránsito en vía pública, de constatar la Autoridad de Control algún tipo de falta por parte del conductor, el pago de la multa (sanción) podrá efectuarse:</p> <p>A. En ese mismo momento y ante la autoridad de control si ésta lo requiere.</p> <p><b>B. Ante el Tribunal de Faltas que lo determina como sanción a aplicar.</b></p> <p>C. Ambas respuestas (a y b) son correctas.</p>
	<p>Para realizar una maniobra de "ingreso a.../egreso de..." un garage o estacionamiento, el conductor debe cruzar la acera; si al hacerlo se encuentra con un transeúnte (peatón), ¿qué conducta debe adoptar el conductor?</p> <p><b>A. Priorizar la marcha del peatón, indefectiblemente.</b></p> <p>B. Realizar una guiñada para advertir su preferencia de avance.</p> <p>C. Completar la maniobra como sea posible, para evitar su mayor exposición por encontrarse maniobrando en la vía de circulación.</p>
	<p>Todos los cristales de un vehículo deben garantizar visibilidad:</p> <p>A. Solamente desde dentro del automóvil hacia fuera.</p> <p><b>B. De adentro hacia fuera y de afuera hacia adentro (ambas direcciones).</b></p> <p>C. El único cristal que debe garantizar plena y total visibilidad es el parabrisas.</p>
	<p>Ud. viene circulando por una avenida de doble mano, y al llegar a la bocacalle precisa efectuar un giro a su izquierda; ¿en qué condiciones puede efectuar esa maniobra?</p> <p><b>A. Sólo si hay semáforo de giro que me habilite o, en su defecto, si no hubiera ningún tipo de semáforo.</b></p> <p>B. Si mi semáforo de circulación está en verde, tomando las debidas precauciones y mirando atentamente a ambos lados</p> <p>C. Es absolutamente indispensable que no venga ningún vehículo por la mano de circulación contraria a la de mi avance.</p>

	<p>Ud. viene circulando por una autopista y advierte que su vehículo presenta una falla o avería que puede afectar gravemente su capacidad de circulación; ¿qué se recomienda hacer en esos casos?</p> <p>A. En el primer cruce con otra vía, abandonar la autopista girando hacia la derecha para llamar a su auxilio.</p> <p><b>B. Por el carril de desaceleración, en la próxima salida abandonar la autopista para llamar a su auxilio.</b></p> <p>C. Ambas respuestas (a y b) son correctas.</p>
	<p>¿Qué vehículo puede realizar el remolque de otro vehículo averiado en la vía pública?</p> <p>A. Cualquier vehículo que posea potencia suficiente para remolcar a otro vehículo y un elemento para asirlo firmemente sin riesgo alguno.</p> <p>B. Cualquier vehículo que posea al menos algún tipo de elemento para asirlo firmemente sin riesgo.</p> <p><b>C. Sólo los vehículos destinados a ese fin.</b></p>
	<p>Cuando un conductor realiza la maniobra de circulación en reversa (marcha atrás), ¿cuál es la distancia establecida que puede recorrer en la realización dicha maniobra?</p> <p>A. Mínimamente 20 metros.</p> <p>B. No más de 20 metros.</p> <p><b>C. El recorrido mínimo e indispensable.</b></p>
	<p>La ubicación y posición de las placas de identificación del vehículo (chapas patente) pueden sufrir algún tipo de modificación o cambio:</p> <p>A. Sólo eventualmente pueden amplificarse para mejorar su visibilidad.</p> <p><b>B. De ninguna manera, deben estar colocadas en posición y forma normal en los lugares reglamentarios.</b></p> <p>C. Sólo está prohibido modificar la placa de identificación delantera, no así la posterior.</p>
	<p>La negativa a realizar una prueba de alcoholemia ¿constituye una falta?</p> <p>A. Sólo si se ha incurrido en una infracción o participado en un accidente.</p> <p>B. No.</p> <p><b>C. Siempre.</b></p>
	<p>¿Cómo se debe dejar un vehículo durante el estacionamiento, en un terreno sin pendiente?</p> <p>A. Con el motor detenido.</p> <p><b>B. Con el motor detenido y sin cambio.</b></p> <p>C. Con el motor detenido y las ruedas delanteras transversales a la acera.</p>

	<p>¿Qué debe hacer cuando el automóvil que está adelante suyo, está esperando para doblar a la izquierda?</p> <p><b>A. Realizar el sobrepaso por la derecha colocando luz de giro y observando por los espejos.</b>  B. Realizar el sobrepaso con cuidado por la izquierda.  C. Tocar bocina para indicarle que siga.</p>
	<p>¿Qué vehículo tiene prioridad para adelantarse, cuando varios circulan encolumnados?</p> <p>A. El que lo intente primero.  B. El último de la fila.  <b>C. El que circula primero detrás del vehículo que se desea adelantar.</b></p>
	<p>¿Esta permitido estacionar el vehículo sobre la acera (vereda) para bajar a abrir o cerrar el acceso a un garaje?</p> <p><b>A. No.</b>  B. Solo por poco tiempo.  C. Solo si la acera es ancha.</p>
	<p>Cuando vemos las luces rojas de un vehículo ¿qué significado tienen en cuanto al sentido de dirección de marcha del mismo?</p> <p><b>A. Que esta ubicado para circular en la misma dirección que nosotros.</b>  B. Que viene hacia nosotros.  C. Que esta descompuesto.</p>
	<p>La ley Nacional de tránsito considera conductores profesionales a los poseedores de que clases de licencias:</p> <p>A. Los de la clase B.  B. Los de la clase A.  <b>C. Los de las clases C, D y E.</b></p>
	<p>¿Qué señales verticales (carteles) nos indican que no tenemos prioridad de paso en un cruce o bocacalle sin semáforo?</p> <p><b>A. Señal de Pare o Ceda el Paso.</b>  B. Señal de Prohibido Retomar.  C. Señal de Contramano o Dirección Obligatoria.</p>
	<p>¿Qué debe hacer el conductor que transita por una calle de doble sentido de circulación y encuentra ante él su mano obstruida en el momento que se aproxima otro vehículo por la mano contraria?</p> <p><b>A. Debe ceder el paso al otro vehículo.</b>  B. Tiene derecho a pasar primero.  C. No existe preferencia.</p>

	<p>Al efectuar un giro en una bocacalle estando encendida la luz verde del semáforo, entre el conductor y el peatón ¿Quién tiene prioridad de paso?</p> <p><b>A. El peatón.</b>  B. El conductor.  C. Es indistinto.</p>
	<p>El vehículo que circule por el carril obligatorio para tránsito lento, ¿puede abandonarlo para adelantar a otro más lento?</p> <p>A. No, nunca.  <b>B. Si, siempre que se respete la velocidades establecidas en las señales.</b>  C. Es indistinto.</p>
	<p>La velocidad máxima en autopista es distinta para determinados vehículos. ¿Para cuáles?</p> <p>A. Autos y Motos.  B. No cambia para ninguno.  <b>C. Transporte de pasajeros, de carga y escolar.</b></p>
	<p>Si una calle de sentido único posee isletas, usted podrá circular por:</p> <p>A. El centro.  B. La parte derecha de la calzada.  <b>C. Cualquiera de los dos lados.</b></p>
	<p>Al pretender abandonar una autopista o semiautopista, ¿cuándo se debe reducir la velocidad?</p> <p><b>A. Cuando se haya entrado en el carril de desaceleración.</b>  B. A la entrada de la nueva vía de circulación.  C. Poco antes de abandonar la misma.</p>