








## Preguntas Categoría D

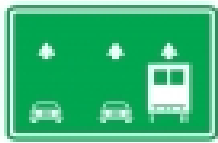
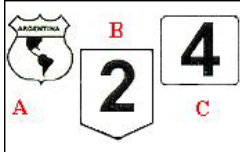
	<p>Si usted conduce un colectivo destinado al transporte escolar ¿cuál es el grado de alcohol por litro de sangre con el que le está permitido circular?</p> <p>A. 0,50 gramos de alcohol por litro de sangre. B. 0,20 gramos de alcohol por litro de sangre. <b>C. 0,00 gramos de alcohol por litro de sangre.</b></p>
	<p>Como consecuencia de un accidente de tránsito, el individuo podrá resultar responsable Civil y/o Penal, por los daños causados. Cuando hablamos de Responsabilidad Civil nos referimos a:</p> <p>A. La posible aplicación de una sanción privativa de la libertad; y/o inhabilitación para conducir; y/o multa. <b>B. El pago de una indemnización por el daño causado.</b> C. Solo al pago de una multa.</p>
	<p>Si Ud. conduce un transporte de carga de más de 3500 kilos de peso bruto, por una autopista dentro de la ciudad de Buenos Aires, ¿cuál es la velocidad máxima a la que le está permitido circular?</p> <p>A. 100 kilómetros por hora. <b>B. 80 kilómetros por hora.</b> C. 120 kilómetros por hora.</p>
	<p>¿Cual es la velocidad máxima que puede alcanzar un ómnibus que circula por una ruta cuando atraviesa una zona urbana, salvo señalización que indique lo contrario?</p> <p><b>A. 60 km./h.</b> B. 70 km./h. C. 80 km./h.</p>
	<p>¿Está permitido estacionar en la vía pública ómnibus, micros, camiones, acoplados o maquinaria especial?</p> <p>A. Está prohibido solo en zonas céntricas. <b>B. Está prohibido las 24 horas.</b> C. No hay diferencia con el estacionamiento de los demás vehículos.</p>

	<p>Determine qué indica la señal que a continuación se presenta:</p> <p>A. Rotonda.  <b>B. Calzada dividida.</b>  C. Inicio doble mano.</p>
	<p>Determine qué indica la señal que a continuación se presenta:</p> <p>A. Estrechamiento (en una mano).  B. Calzada dividida.  <b>C. Estrechamiento (en las dos manos).</b></p>
	<p>Determine qué indica la señal que a continuación se presenta:</p> <p><b>A. Desvío por Cambio de Sentido.</b>  B. Calzada Dividida.  C. Cruce Peligroso.</p>
	<p>Determine qué indica la señal que a continuación se presenta:</p> <p>A. Doble Mano de Circulación.  <b>B. Esquema de Recorrido.</b>  C. Ceda el Paso.</p>
	<p>Determine qué indica la señal que a continuación se presenta:</p> <p><b>A. Túnel.</b>  B. Puente angosto.  C. Altura mínima.</p>
	<p>Determine qué indica la señal que a continuación se presenta:</p> <p><b>A. Detención transporte público de pasajeros.</b>  B. Terminal de ómnibus.  C. Circulación exclusiva (transporte público).</p>
	<p>¿Cómo debe ser el sistema de indicadores de puertas abiertas que deben poseer, con carácter obligatorio, los vehículos de transporte escolar?</p> <p>A. Deben poseer un sistema lumínico que indique cuando alguna de las puertas se encuentra abierta.  B. Deben poseer un sistema sonoro que indique cuando alguna de las puertas se encuentra abierta.  <b>C. Deben poseer un sistema lumínico y sonoro que indique cuando alguna de las puertas se encuentra abierta.</b></p>

	<p>¿Está permitido utilizar los neumáticos reconstruidos (recapados) en el eje delantero de ómnibus o camiones?</p> <p>A. Sólo cuando están recién reconstruidos.  B. Sólo si tienen más de 1,6 mm. de profundidad en el dibujo.  <b>C. No, no está permitido colocar neumáticos reconstruidos en los ejes delanteros de ómnibus o camiones.</b></p>
	<p>Determine qué indica la señal que a continuación se presenta:</p> <p>A. Prohibición de Girar a la Derecha.  B. Prohibición de Adelantar.  <b>C. Prohibición de Cambiar de Carril.</b></p>
	<p>Determine qué indica la señal que a continuación se presenta:</p> <p>A. Prohibición de Estacionar.  B. Prioridad Transito Pesado.  <b>C. Prohibición de Circular (Tránsito Pesado).</b></p>
	<p>Determine qué indica la señal que a continuación se presenta:</p> <p><b>A. Zona Escolar.</b>  B. Calle Peatonal.  C. Puesto Policial.</p>
	<p>Determine qué indica la señal que a continuación se presenta:</p> <p>A. Limitación largo de vehículo.  B. Circulación exclusiva (camión).  <b>C. Tránsito pesado a la derecha.</b></p>
	<p>Determine qué indica la señal que a continuación se presenta:</p> <p><b>A. Comienzo de Autopista.</b>  B. Cruce Ferroviario.  C. Prohibición de Adelantar.</p>
	<p>Determine qué indica la señal que a continuación se presenta:</p> <p>A. Bifurcación de Calzada.  <b>B. Cruce Ferroviario</b>  C. Senda Peatonal.</p>

	<p>Determine qué indica la señal que a continuación se presenta:</p> <p><b>A. Paneles de prevención (aproximación).</b>  B. Prohibición de Circular.  C. Senda Peatonal.</p>
	<p>Determine qué indica la señal que a continuación se presenta:</p> <p><b>A. Limitación de altura.</b>  B. Limitación de ancho.  C. Limitación de peso.</p>
	<p>Determine qué indica la señal que a continuación se presenta:</p> <p>A. Fin de Doble Mano de Circulación.  B. Prohibición de Circular Tránsito Pesado.  <b>C. Fin de Autopista.</b></p>
	<p>Determine qué indica la señal que a continuación se presenta:</p> <p><b>A. Hombres Trabajando.</b>  B. Zona Escolar.  C. Senda Peatonal.</p>
	<p>Determine qué indica la señal que a continuación se presenta:</p> <p><b>A. Panel de Prevención (Objeto Rígido).</b>  B. Calzada Reducida.  C. Contramano.</p>
	<p>Determine qué indica la señal que a continuación se presenta:</p> <p>A. Máximo Largo Permitido.  <b>B. Aviso de próxima altura limitada.</b>  C. Calle Cerrada.</p>
	<p>Determine qué indica la señal que a continuación se presenta:</p> <p>A. Aviso de próximo alto limitado.  <b>B. Ancho limitado.</b>  C. Reducción de Calzada.</p>

	<p>Determine qué indica la señal que a continuación se presenta:</p> <p>A. Cruce Ferroviario.  B. Prohibición de Girar.  <b>C. Panel de Prevención (Curva).</b></p>
	<p>Determine qué indica la señal que a continuación se presenta:</p> <p>A. Limitación de altura.  <b>B. Limitación de peso.</b>  C. Limitación de ancho.</p>
	<p>Determine qué indica la señal que a continuación se presenta:</p> <p>A. Estacionamiento Permitido.  B. Permitido Adelantar.  <b>C. Preferencia de Avance.</b></p>
	<p>Determine qué indica la señal que a continuación se presenta:</p> <p>A. Limitación largo de vehículo.  <b>B. Prohibición de circular (acoplado).</b>  C. Prohibición de circular (camión).</p>
	<p>A que punto de referencia hace alusión la señal que a continuación se presenta:</p> <p><b>A. Taxi.</b>  B. Gomería.  C. Terminal de ferrocarril.</p>
	<p>A que punto de referencia hace alusión la señal que a continuación se presenta:</p> <p>A. Servicio mecánico.  <b>B. Gomería.</b>  C. Estación de servicio.</p>
	<p>Los ómnibus y camiones, como regla general, deben circular en los caminos manteniendo entre sí una distancia mínima ¿cuál es esa distancia?</p> <p>A. 10 metros.  <b>B. 100 metros.</b>  C. 50 metros.</p>

	<p>Determine qué indica la señal que a continuación se presenta:</p> <p>A. Prioridad Tránsito Liviano.  <b>B. Indicador de Carriles.</b>  C. Ceda el Paso.</p>
	<p>¿Cual de la tres señales indica que la ruta es provincial?</p> <p>A. La señal A.  B. La señal B.  <b>C. La señal C.</b></p>
	<p>En materia de señalamiento horizontal o demarcación horizontal ¿qué se entiende por "isleta"?</p> <p><b>A. Son las marcas canalizadoras de tránsito. No se puede traspasar o circular sobre ellas.</b>  B. Son marcas en la calzada que indican lugares donde está permitido detenerse.  C. Son marcas en la calzada que indican lugares donde está permitido estacionarse y/o detenerse.</p>
	<p>En un incidente de tránsito ¿qué significa que el conductor es considerado responsable por impericia?</p> <p><b>A. Que no ha respondido adecuadamente a una circunstancia del tránsito por falta de conocimiento o práctica en la conducción.</b>  B. Que ha realizado un acto con su vehículo que las reglas de prudencia indican no hacer, o sea, que ha actuado peligrosamente.  C. Que ha tenido una conducta negligente al circular con un vehículo en mal estado.</p>
	<p>Según la Ley N° 24.449, ¿qué indica un cordón pintado de color rojo?</p> <p>A. Que está prohibido estacionar, pudiendo efectuarse la detención para ascenso y descenso de pasajeros.  B. Que ese un espacio reservado al estacionamiento exclusivo de vehículos destinados a servicio de emergencia.  <b>C. Que está prohibido estacionar o detenerse al costado de la acera.</b></p>
	<p>Según la Ley N° 24.449, ¿qué indica un cordón pintado de color amarillo?</p> <p><b>A. Indica que sólo está prohibido estacionar, pudiendo efectuarse detenciones para ascenso y descenso de carga y pasajeros.</b>  B. Indica que es un lugar reservado para el estacionamiento exclusivo de vehículos destinados al transporte de pasajeros.  C. Indica que está prohibido estacionar o detenerse al costado de la acera.</p>

	<p>¿Cuándo se considera que un vehículo está detenido?</p> <p>A. Se considera detención a la permanencia en un sector de la vía pública de un vehículo por circunstancias de la circulación o por causas de fuerza mayor.</p> <p><b>B. Se considera detención a la permanencia de un vehículo junto a la acera por un tiempo estrictamente necesario para casos de control de tránsito realizado por autoridad competente, ascenso o descenso de pasajeros o para carga y descarga.</b></p> <p>C. Lo indicado en a y b.</p>
	<p>De acuerdo a lo que establece la Ley Nacional (24.449) y su reglamentación, con respecto al vehículo ¿qué documentación debe llevar?</p> <p>A. Recibo de pago de patente y cédula verde.</p> <p>B. Recibo de pago de patente y comprobante de pago del seguro.</p> <p><b>C. Recibo de pago de patente, comprobante de seguro vigente, cédula verde, y cuando correspondiera (taxi, remis, etc.) comprobante de verificación técnica del vehículo y habilitación.</b></p>
	<p>El alcohol produce en el conductor:</p> <p>A. Un aumento del campo visual.</p> <p><b>B. Un estado de euforia y de falsa seguridad en sí mismo.</b></p> <p>C. Una reducción del tiempo de reacción.</p>
	<p>Se considera a la niebla un factor de riesgo porque:</p> <p><b>A. Reduce el alcance de la visibilidad, produce condiciones resbaladizas en la calzada e induce a calcular mal las distancias.</b></p> <p>B. Aumenta la percepción de objetos pero se modifica la percepción de la distancia.</p> <p>C. Ambas respuestas, la a y la b, son correctas.</p>
	<p>Para indicar las velocidades máximas a desarrollar en zonas donde es habitual la formación de bancos de niebla, se utilizan señales horizontales en forma de letra V invertida ¿cómo se saben o reconocen esas velocidades máximas?</p> <p>A. Cuando un conductor alcanza a ver sólo una señal V invertida, la velocidad máxima no deberá superar los 40 km./h.</p> <p>B. Si alcanza a ver dos señales V invertidas, la velocidad máxima no deberá superar los 60 km./h.</p> <p><b>C. Lo indicado en a y b.</b></p>
	<p>Si al aproximarse a una bocacalle sin semáforo, Ud. advierte que un peatón pretende efectuar el cruce desde su izquierda hacia su derecha, ¿qué deberá hacer?</p> <p><b>A. Cederle el paso, pues el peatón tiene prioridad.</b></p> <p>B. Avanzar a velocidad precautoria, pues sólo tiene prioridad aquel que viene por la derecha.</p> <p>C. La prioridad de paso es del vehículo ya que su marcha es más difícil controlar</p>

	<p>Todo usuario de la vía pública debe, como premisa básica:</p> <p><b>A. Asumir la obligación de no generar peligro innecesario</b></p> <p>B. Acreditar experiencia de manejo en vehículos, que por su categoría de licencia le corresponda, no menor a un año</p> <p>C. Concurrir a cursos de actualización en temática vial, con una frecuencia no mayor a seis meses.</p>
	<p>En materia de responsabilidad Civil, ¿qué es lo que se considera como factor determinante para dar inicio a una demanda?</p> <p>A. la intención de la conducta dañosa;</p> <p><b>B. la existencia de un daño real que afecte a algún particular, provocado como consecuencia del accidente</b></p> <p>C. la edad de la persona que provoca el daño.</p>
	<p>En materia de responsabilidad Penal, ¿puede ésta transferirse de una persona (por ejemplo, el conductor del vehículo que provoca el accidente) a otra (por ejemplo, el dueño del vehículo)?</p> <p><b>A. No, porque la responsabilidad penal es intransferible.</b></p> <p>B. Sí, y de éste último también puede transferirse a la Compañía de Seguros.</p> <p>C. El Juez resolverá en función de la gravedad del accidente y sus consecuencias.</p>
	<p>En cualquier circunstancia o situación posible, durante la circulación, ¿a qué le prestaría atención Ud. a fin de aumentar su seguridad y la de otros?</p> <p>A. El estado del pavimento, del auto y el clima</p> <p><b>B. Las condiciones en que se encuentra el automóvil, las condiciones relativas a infraestructura vial, las condiciones climáticas y el estado del conductor</b></p> <p>C. Las condiciones en que se encuentra el conductor, caudal de tránsito y tipo de cubiertas.</p>
	<p>En caso de niebla si el conductor reduce la velocidad de circulación de su vehículo, ¿disminuiría la posibilidad de causar un accidente de tránsito?</p> <p>A. Solo en la medida en que el conductor no conserve su derecha.</p> <p><b>B. Siempre, ya que la velocidad es un factor esencial por sí mismo en la producción de accidentes de tránsito.</b></p> <p>C. Siempre y cuando la densidad del banco de niebla sea excesivamente intensa.</p>



	<p>La niebla, como factor de riesgo produce modificaciones en:</p> <p><b>A. El campo visual del conductor y su percepción del entorno, la capacidad lumínica del vehículo como la adherencia de sus cubiertas y la respuesta del pavimento.</b></p> <p>B. El campo visual del conductor y el estado del pavimento.</p> <p>C. Sólo afecta la capacidad lumínica del vehículo y la respuesta de sus cubiertas en el avance.</p>
	<p>Ante la presencia de bancos de niebla y a fin de reducir riesgos, ¿qué es lo que se recomienda?</p> <p>A. Utilizar las luces rompeniebla, lo cual es suficiente porque permite ampliar la visibilidad del conductor.</p> <p><b>B. Conducir con ambas manos en el volante, reducir la velocidad, aumentar la distancia entre vehículos y utilizar las luces del vehículo correspondientes.</b></p> <p>C. Detenerse en la banquina hasta que levante el banco de niebla.</p>
	<p>Durante la circulación, el uso de telefonía celular está prohibida para el conductor porque en tanto factor de riesgo:</p> <p>A. disminuye su capacidad atencional y limita el sentido de la audición, aumentando el tiempo de reacción.</p> <p>B. Debido a que el conductor debe mantener ambas manos comprometidas en la acción de conducir, el equipo celular reduciría la capacidad para maniobrar.</p> <p><b>C. Ambas respuestas (a y b) son correctas</b></p>
	<p>Durante la circulación, la prohibición del uso de telefonía celular afecta también al acompañante:</p> <p>A. en condiciones normales, no; pero sí cuando la circulación se realiza en condiciones de máximo peligro.</p> <p><b>B. La prohibición del uso de telefonía celular afecta sólo al conductor del vehículo.</b></p> <p>C. Ambas respuestas (a y b) son correctas</p>
	<p>Ante un eventual control de tránsito en vía pública, de constatar la Autoridad de Control algún tipo de falta por parte del conductor, el pago de la multa (sanción) podrá efectuarse:</p> <p>A. En ese mismo momento y ante la autoridad de control si ésta lo requiere.</p> <p><b>B. Ante el Tribunal de Faltas que lo determina como sanción a aplicar.</b></p> <p>C. Ambas respuestas (a y b) son correctas.</p>

	<p>Para realizar una maniobra de "ingreso a.../egreso de..." un garage o estacionamiento, el conductor debe cruzar la acera; si al hacerlo se encuentra con un transeúnte (peatón), ¿qué conducta debe adoptar el conductor?</p> <p><b>A. Priorizar la marcha del peatón, indefectiblemente.</b>  B. Realizar una guiñada para advertir su preferencia de avance.  C. Completar la maniobra como sea posible, para evitar su mayor exposición por encontrarse maniobrando en la vía de circulación.</p>
	<p>Todos los cristales de un vehículo deben garantizar visibilidad:</p> <p>A. Solamente desde dentro del automóvil hacia fuera.  <b>B. De adentro hacia fuera y de afuera hacia adentro (ambas direcciones).</b>  C. El único cristal que debe garantizar plena y total visibilidad es el parabrisas.</p>
	<p>Ud. viene circulando por una avenida de doble mano, y al llegar a la bocacalle precisa efectuar un giro a su izquierda, ¿en qué condiciones puede efectuar esa maniobra?</p> <p><b>A. Sólo si hay semáforo de giro que me habilite o, en su defecto, si no hubiera ningún tipo de semáforo.</b>  B. Si mi semáforo de circulación está en verde, tomando las debidas precauciones y mirando atentamente a ambos lados  C. Es absolutamente indispensable que no venga ningún vehículo por la mano de circulación contraria a la de mi avance.</p>
	<p>Ud. viene circulando por una autopista y advierte que su vehículo presenta una falla o avería que puede afectar gravemente su capacidad de circulación; ¿qué se recomienda hacer en esos casos?</p> <p>A. En el primer cruce con otra vía, abandonar la autopista girando hacia la derecha para llamar a su auxilio.  <b>B. Por el carril de desaceleración, en la próxima salida abandonar la autopista para llamar a su auxilio.</b>  C. Ambas respuestas (a y b) son correctas.</p>
	<p>¿Qué vehículo puede realizar el remolque de otro vehículo averiado en la vía pública?</p> <p>A. Cualquier vehículo que posea potencia suficiente para remolcar a otro vehículo y un elemento para asirlo firmemente sin riesgo alguno.  B. Cualquier vehículo que posea al menos algún tipo de elemento para asirlo firmemente sin riesgo.  <b>C. Sólo los vehículos destinados a ese fin.</b></p>

	<p>Cuando un conductor realiza la maniobra de circulación en reversa (marcha atrás), ¿cuál es la distancia establecida que puede recorrer en la realización dicha maniobra?</p> <p>A. Mínimamente 20 metros.  B. No más de 20 metros.  <b>C. El recorrido mínimo e indispensable.</b></p>
	<p>La ubicación y posición de las placas de identificación del vehículo (chapas patente) pueden sufrir algún tipo de modificación o cambio:</p> <p>A. Sólo eventualmente pueden amplificarse para mejorar su visibilidad.  <b>B. De ninguna manera, deben estar colocadas en posición y forma normal en los lugares reglamentarios.</b>  C. Sólo está prohibido modificar la placa de identificación delantera, no así la posterior.</p>
	<p>La negativa a realizar una prueba de alcoholemia ¿constituye una falta?</p> <p>A. Sólo si se ha incurrido en una infracción o participado en un accidente.  B. No.  <b>C. Siempre.</b></p>
	<p>¿Cómo se debe dejar un vehículo durante el estacionamiento, en un terreno sin pendiente?</p> <p>A. Con el motor detenido.  <b>B. Con el motor detenido y sin cambio.</b>  C. Con el motor detenido y las ruedas delanteras transversales a la acera.</p>
	<p>¿Qué debe hacer cuando el automóvil que está adelante suyo, está esperando para doblar a la izquierda?</p> <p><b>A. Realizar el sobrepaso por la derecha colocando luz de giro y observando por los espejos.</b>  B. Realizar el sobrepaso con cuidado por la izquierda.  C. Tocar bocina para indicarle que siga.</p>
	<p>¿Qué vehículo tiene prioridad para adelantarse, cuando varios circulan encolumnados?</p> <p>A. El que lo intente primero.  B. El último de la fila.  <b>C. El que circula primero detrás del vehículo que se desea adelantar.</b></p>

	<p>¿Esta permitido estacionar el vehículo sobre la acera (vereda) para bajar a abrir o cerrar el acceso a un garaje?</p> <p><b>A. No.</b>  B. Solo por poco tiempo.  C. Solo si la acera es ancha.</p>
	<p>Cuando vemos las luces rojas de un vehículo ¿qué significado tienen en cuanto al sentido de dirección de marcha del mismo?</p> <p><b>A. Que esta ubicado para circular en la misma dirección que nosotros.</b>  B. Que viene hacia nosotros.  C. Que esta descompuesto.</p>
	<p>La ley Nacional de tránsito considera conductores profesionales a los poseedores de que clases de licencias:</p> <p>A. Los de la clase B.  B. Los de la clase A.  <b>C. Los de las clases C, D y E.</b></p>
	<p>¿Qué señales verticales (carteles) nos indican que no tenemos prioridad de paso en un cruce o bocacalle sin semáforo?</p> <p><b>A. Señal de Pare o Ceda el Paso.</b>  B. Señal de Prohibido Retomar.  C. Señal de Contramano o Dirección Obligatoria.</p>
	<p>¿Qué debe hacer el conductor que transita por una calle de doble sentido de circulación y encuentra ante él su mano obstruida en el momento que se aproxima otro vehículo por la mano contraria?</p> <p><b>A. Debe ceder el paso al otro vehículo.</b>  B. Tiene derecho a pasar primero.  C. No existe preferencia.</p>
	<p>Al efectuar un giro en una bocacalle estando encendida la luz verde del semáforo, entre el conductor y el peatón ¿Quién tiene prioridad de paso?</p> <p><b>A. El peatón.</b>  B. El conductor.  C. Es indistinto.</p>
	<p>El vehículo que circule por el carril obligatorio para transito lento, ¿puede abandonarlo para adelantar a otro mas lento?</p> <p>A. No, nunca.</p>

	<p><b>B. Si, siempre que se respete la velocidades establecidas en las señales.</b></p> <p>C. Es indistinto.</p>
	<p>La velocidad máxima en autopista es distinta para determinados vehículos. ¿Para cuáles?</p> <p>A. Autos y Motos.</p> <p>B. No cambia para ninguno.</p> <p><b>C. Transporte de pasajeros, de carga y escolar.</b></p>
	<p>Si una calle de sentido único posee isletas, usted podrá circular por:</p> <p>A. El centro.</p> <p>B. La parte derecha de la calzada.</p> <p><b>C. Cualquiera de los dos lados.</b></p>
	<p>Al pretender abandonar una autopista o semiautopista, ¿cuándo se debe reducir la velocidad?</p> <p><b>A. Cuando se haya entrado en el carril de desaceleración.</b></p> <p>B. A la entrada de la nueva vía de circulación.</p> <p>C. Poco antes de abandonar la misma.</p>
	<p>El Airbag de un vehículo</p> <p>A. Permite prescindir del uso del cinturón de seguridad.</p> <p><b>B. Complementa el uso del cinturón de seguridad.</b></p> <p>C. Es incompatible con el uso del cinturón de seguridad.</p>
	<p>¿Cuál es la conducta a seguir frente a una señal "CEDA EL PASO"?</p> <p>A. Ceder el paso al transporte público.</p> <p><b>B. Debemos bajar la velocidad y ceder el paso al vehículo que circula por la otra vía.</b></p> <p>C. No avanzar</p>
	<p>Ante un cartel de "PARE" ¿cuál es la conducta a seguir?</p> <p>A. Continuar la marcha porque tiene prioridad de paso.</p> <p>B. Disminuir la marcha para observar el tránsito.</p> <p><b>C. Detener el vehículo en forma total y seguir solo cuando no circule ningún vehículo por la otra vía, ni esté cruzando un peatón.</b></p>
	<p>Con carácter general, ¿está prohibido en zona urbana el uso de bocina en los vehículos?</p> <p>A. No, está permitido.</p> <p><b>B. Si, está prohibido.</b></p> <p>C. Está prohibido el uso indebido de la bocina.</p>

	<p>Cuando no hay senda peatonal marcada en el piso ¿por dónde debemos cruzar las calles?</p> <p>A. Mitad de cuadra.  B. En coincidencia con las paradas de transporte.  <b>C. Por lo que sería la prolongación de la vereda sobre la calle.</b></p>
	<p>Al atravesar túneles o puentes en una ruta, ¿está permitido adelantarse a otro vehículo?</p> <p>A. Sí.  <b>B. No.</b>  C. Según los días y horas.</p>
	<p>¿Está permitido detener un vehículo sobre una senda peatonal?</p> <p><b>A. No.</b>  B. Sí.  C. Según los casos.</p>
	<p>¿Para qué sirven las luces de los vehículos?</p> <p>A. Sólo para hacer señales.  B. Sólo para ver los carteles.  <b>C. Para ver y ser vistos, y hacer señales.</b></p>
	<p>¿Qué utilidad tienen los cinturones de seguridad?</p> <p>A. Son útiles solo para altas velocidades.  B. Sirven para proteger a los menores.  <b>C. Evitan y/o disminuyen los daños físicos a las personas, en caso de accidentes.</b></p>
	<p>Como norma de carácter general, ¿quién tiene prioridad de paso en una encrucijada o bocacalle?</p> <p>A. Los vehículos de transporte de pasajero.  B. El vehículo de menor tamaño.  <b>C. El vehículo que se presenta por el lado derecho.</b></p>
	<p>Ud. observa que una ambulancia se aproxima con las luces especiales encendidas; ¿debe facilitarle el paso?</p> <p>A. No, porque sólo advierten de su presencia, pero no significa que estén realizando un servicio urgente.  <b>B. Sí, porque debo entender que circula en servicio de urgencia.</b></p>

	C. Sí, sólo cuando se advierta que está trasladando pacientes.
	<p>Para advertir a otros conductores que va a realizar una maniobra con su vehículo, preferentemente lo hará con:</p> <p>A. El brazo.  <b>B. La señalización luminosa del vehículo.</b>  C. La señalización acústica del vehículo.</p>
	<p>Circula detrás de otros vehículos por una vía urbana. Si al llegar a una intersección prevé que va a quedar detenido en la misma obstruyendo la circulación transversal, ¿qué debe hacer?</p> <p>A. Pasar si tengo preferencia de paso.  B. Intentar atravesar la intersección en el caso de que la luz esté en verde.  <b>C. No penetrar en la intersección hasta estar seguro de que voy a poder franquearla sin ser un obstáculo.</b></p>
	<p>¿Qué es aconsejable hacer cuando un vehículo nos encandila de frente?</p> <p>A. Disminuir la velocidad y circular por la banquina para alejarnos lo más que podamos de la luz que nos está encandilando.  <b>B. Hacer guiño con las luces altas/bajas y dirigir la vista hacia la línea de banquina.</b>  C. Colocar las luces altas de nuestro vehículo para contrarrestar la luz alta del vehículo que nos está encandilando y dirigir la vista hacia la línea de banquina.</p>
	<p>¿Dónde está prohibido adelantarse?</p> <p>A. En la cercanía de una intersección de vías y en los tramos de una ruta en donde la señalización horizontal sea una línea discontinua.  B. En autopistas y semiautopistas.  <b>C. En puentes, túneles, pasos a nivel, bocacalles y curvas.</b></p>
	<p>Los vehículos de emergencia ¿Cuándo tienen prioridad de paso?</p> <p>A. Siempre.  <b>B. Cuando están en una situación de emergencia.</b>  C. Cuando están en situación de emergencia y circulan por una avenida.</p>
	<p>¿A que distancia mínima en tiempo debe circular en relación al vehículo que lo antecede en condiciones normales?</p> <p>A. A una separación en tiempo de cinco segundos (5').  <b>B. A una separación en tiempo de dos segundos (2').</b>  C. A una separación en tiempo de tres segundos (3').</p>

	<p>¿Qué significa el término hidroplaneo (acuaplaning)?</p> <p>A. Que las cubiertas comienzan a desplazarse únicamente sobre una película de aceite.</p> <p><b>B. Que las cubiertas comienzan a desplazarse únicamente sobre una película de agua.</b></p> <p>C. Es el plazo de vida útil del vehículo.</p>
	<p>¿Qué sanciones se pueden aplicar ante una falta grave de tránsito?</p> <p><b>A. Multa – Inhabilitación - Arresto.</b></p> <p>B. Cursos especiales de capacitación – Inhabilitación - Trabajos de utilidad pública.</p> <p>C. Multa - Cursos especiales de capacitación - Reparación del daño.</p>
	<p>Una línea de trazo discontinuo demarcada sobre la calzada en forma paralela a su eje (a lo largo) ¿qué nos indica?</p> <p>A. Indica que la misma no puede ser traspasada, debiendo conservar su lugar el vehículo</p> <p>B. Que circula contiguo a ella.</p> <p><b>C. Indica que puede ser traspasada para adelantar a otro vehículo.</b></p>
	<p>¿Qué significa la doble línea continua amarilla?</p> <p>A. Es una señalización que se utiliza únicamente para dividir los sentidos de circulación.</p> <p><b>B. Indica para ambos sentidos de circulación que no debe ser traspasada ni se puede circular sobre ella.</b></p> <p>C. Significa que solo pueden circular vehículos particulares.</p>
	<p>¿Cuáles son las señales necesarias para realizar una parada de emergencia?</p> <p><b>A. En banquinas no pavimentadas, señale con la luz intermitente, reduzca su velocidad y diríjase a la banquina.</b></p> <p>B. Para realizar una parada de emergencia debe realizar un juego entre las luces altas y las bajas.</p> <p>C. No es obligatorio señalar una parada de emergencia.</p>
	<p>¿Qué es una arteria de doble mano?</p> <p>A. Una vía ancha que se cruza con otra vía.</p> <p><b>B. Una vía donde se circula en ambos sentidos de tránsito.</b></p> <p>C. Una vía reservada al uso de transporte público.</p>



	<p>Adelantarse en una curva está permitido:</p> <p>A. Solo si la curva no es muy cerrada.  B. Solo si no viene un vehículo en sentido contrario.  <b>C. No, está prohibido.</b></p>
	<p>Determine que indica la señal que a continuación se presenta:</p> <p><b>A. Prohibido adelantarse.</b>  B. No ruidos molestos (bocina).  C. Prohibición de luz alta.</p>
	<p>Determine qué indica la señal que a continuación se presenta:</p> <p>A. Camino de cornisa.  B. Pendiente de ingreso.  <b>C. Pendiente descendente.</b></p>
	<p>Determine qué indica la señal que a continuación se presenta:</p> <p>A. Prohibido adelantarse.  B. Prohibición de circular.  <b>C. Circulación exclusiva de bicicletas.</b></p>
	<p>Determine qué indica la señal que a continuación se presenta:</p> <p>A. Girar a la izquierda.  B. Proximidad de obstáculo.  <b>C. Rotonda.</b></p>
	<p>Determine qué indica la señal que a continuación se presenta:</p> <p>A. Velocidad máxima.  <b>B. Velocidad mínima.</b>  C. Velocidad controlada por radar.</p>
	<p>Determine qué indica la señal que a continuación se presenta:</p> <p><b>A. Animales sueltos.</b>  B. Zona Rural.  C. Zoológico</p>






	<p>Determine qué indica la señal que a continuación se presenta:</p> <p><b>A. Limitación largo de vehículo.</b>  B. Circulación exclusiva (transporte público).  C. Tránsito pesado a la derecha.</p>
	<p>Determine qué indica la señal que a continuación se presenta:</p> <p><b>A. Prohibición de circular (bicicletas).</b>  B. Ciclistas.  C. Prohibición de circular (motos).</p>
	<p>Determine qué indica la señal que a continuación se presenta:</p> <p>A. Inicio de doble mano.  B. Estrechamiento (en una sola mano).  <b>C. Encrucijada (bifurcación en Y).</b></p>
	<p>Determine qué indica la señal que a continuación se presenta:</p> <p>A. Límite de velocidad mínima.  B. Velocidad controlada por radar.  <b>C. Límite máximo de velocidad.</b></p>
	<p>Determine qué indica la señal que a continuación se presenta:</p> <p>A. Niños.  B. Escolares.  <b>C. Cruce de peatones.</b></p>
	<p>Determine qué indica la señal que a continuación se presenta:</p> <p>A. Zona montañosa.  <b>B. Perfil irregular.</b>  C. Cruce ferroviario.</p>
	<p>Determine qué indica la señal que a continuación se presenta:</p> <p>A. Curva.  B. Giro obligatorio.  <b>C. Camino sinuoso.</b></p>

	<p>Determine qué indica la señal que a continuación se presenta:</p> <p>A. Carril de emergencia.  <b>B. No estacionar.</b>  C. Carril exclusivo.</p>
	<p>Determine qué indica la señal que a continuación se presenta:</p> <p><b>A. No girar en U (no retomar)</b>  B. No avanzar.  C. Puesto de control.</p>
	<p>Determine qué indica la señal que a continuación se presenta:</p> <p>A. Curva (común)  B. Sentido de circulación (izquierda)  <b>C. Encrucijada (cruce)</b></p>
	<p>Determine qué indica la señal que a continuación se presenta:</p> <p><b>A. No avanzar.</b>  B. Comienzo de doble mano.  C. Sentido de circulación (comienzo de sentido único).</p>
	<p>Determine qué indica la señal que a continuación se presenta:</p> <p><b>A. Prohibición de adelantarse.</b>  B. Circulación exclusiva (motos).  C. Prohibición de circular (autos).</p>
	<p>Determine qué indica la señal que a continuación se presenta:</p> <p>A. No girar en U.  <b>B. Prohibido girar a la izquierda.</b>  C. Giro a la izquierda.</p>
	<p>Determine qué indica la señal que a continuación se presenta:</p> <p>A. Curva.  <b>B. Giro obligatorio (izquierda).</b>  C. Giro obligatorio (derecha).</p>

	<p>Conduce su vehículo por una ruta convencional con un carril para cada sentido, sin banquina, y desea adelantar al vehículo que circula a 110 kilómetros por hora delante de Ud., ¿a qué velocidad máxima puede adelantarlo?</p> <p>A. A 120 kilómetros por hora.  <b>B. No está permitido el adelantamiento porque el vehículo que circula delante lo hace a la velocidad máxima permitida para este tipo de vías.</b>  C. A 130 kilómetros por hora.</p>
	<p>De noche, dentro de la ciudad, ¿está permitido utilizar la luz de largo alcance o luces altas?</p> <p>A. Sí, pero únicamente cuando circule a más de 40 kilómetros por hora y la vía no esté iluminada.  B. Sí, cuando la vía esté insuficientemente iluminada, siempre que observe que no hay posibilidad de producir encandilamientos.  <b>C. No, dentro de la ciudad está prohibida su utilización, ni siquiera en forma de juego de luces.</b></p>
	<p>Ud. circula conduciendo su vehículo por una vía urbana. ¿Debe llevar abrochado el cinturón de seguridad?</p> <p><b>A. Sí, en todos los casos.</b>  B. No, porque sólo se exige utilizar el cinturón en vías interurbanas.  C. No, si voy a poca velocidad.</p>
	<p>En los casos de doble línea, compuesta una por un trazo continuo y otra por un trazo discontinuo: ¿cuál es la conducta a seguir?</p> <p>A. Podemos cruzarlas o no, siempre que lo hagamos con precaución.  B. No está permitido trasponerla.  <b>C. Debemos respetar lo que rige con respecto a la línea que está de nuestro lado (si es continua no cruzarla; si es discontinua está permitido cruzarla).</b></p>
	<p>¿Qué requisito básico debe reunir una vía de circulación para ser considerada una autopista?</p> <p><b>A. No tener cruces a nivel con otras vías.</b>  B. Tener muchos carriles para circular.  C. Tener que pagar peaje para circular.</p>
	<p>¿Está permitido en los vehículos agregar en los paragolpes aditamentos (defensas, etc.) de cualquier naturaleza, que puedan considerarse peligrosos para personas u otros vehículos?</p> <p><b>A. No está permitido modificar paragolpes originales de fábrica, agregándole elementos que puedan considerarse peligrosos o agresivos.</b>  B. Pueden agregarse defensas en vehículos pequeños.  C. Depende de la zona donde se circule.</p>

	<p>¿Qué requisitos debe reunir una vía de circulación para ser considerada una semiautopista?</p> <p><b>A. Un camino similar a la autopista pero con cruces a nivel.</b>  B. Tener semáforos y peaje.  C. Ser elevadas y con dos carriles por mano.</p>
	<p>¿Cuándo está permitido estacionar en ángulo con el cordón de la acera derecha y/o izquierda?</p> <p>A. Sólo cuando la calle es ancha.  <b>B. Sólo cuando el señalamiento lo indica.</b>  C. Sólo cuando es de un lado solamente.</p>
	<p>¿Qué identifica la Cruz de San Andrés?</p> <p>A. Cruce de caminos.  <b>B. Cruce de vías férreas.</b>  C. Cruce de peatones.</p>
	<p>Si Ud. sale de un estacionamiento paralelo al cordón, previamente debe:</p> <p>A. Tocar bocina e incorporarse al tránsito pasante.  <b>B. Salir con precaución, cuando no haya tránsito pasante y colocando luz de giro.</b>  C. Salir lo más rápido posible, porque tiene prioridad.</p>
	<p>Si circulando por una ruta, se encuentra con placas de hielo, conviene:</p> <p>A. Acelerar para salir lo más pronto del peligro.  <b>B. No frenar ni acelerar y conducir con suavidad.</b>  C. Llevar el pedal del freno ligeramente presionado para que, en caso de necesidad, la frenada sea más rápida.</p>
	<p>¿Qué es un carril de circulación vehicular?</p> <p>A. Banquina de la izquierda.  B. Banquina de la derecha.  <b>C. Franja de la calzada por donde circulan los vehículos en una fila.</b></p>
	<p>¿Qué nos indica en un semáforo, el encendido solamente de la luz roja, de manera intermitente?</p> <p><b>A. Que el semáforo está funcionando parcialmente y que nos aproximamos a un cruce peligroso, debiendo detener la marcha y reiniciándola sólo cuando se observe que no hay riesgo para continuar.</b>  B. Que el semáforo funciona mal.  C. Que va a cambiar a verde.</p>

	<p>Quando un vehículo circula por una arteria ubicada al costado de una vía férrea, ¿es obligatorio ceder el paso a otro que sale del paso a nivel?</p> <p>A. Sí, si viene desde la derecha.  B. No, si viene desde la izquierda.  <b>C. Debe cedérsele el paso, venga de la izquierda o de la derecha.</b></p>
	<p>¿Cuál es la velocidad máxima permitida en semiautopista, cuando no hay carteles que lo indiquen, según la Ley 24.449?</p> <p>A. 80 km/h.  B. 100 km/h.  <b>C. 120 km/h.</b></p>
	<p>Sin causa justificada, ¿está permitido circular por debajo de los límites de velocidad mínimos establecidos para cada tipo de vía?</p> <p>A. Sí, siempre que se circule por la banquina.  <b>B. No.</b>  C. Sí, siempre que no circulen otros vehículos a los que se pueda entorpecer la marcha normal.</p>
	<p>Usted ha sufrido un desperfecto en su vehículo y lo ha dejado inmovilizado en la banquina. ¿Debe señalizarlo?</p> <p>A. No, porque el vehículo no está en la calzada.  B. Sí, con los triángulos de señalización de peligro u otros dispositivos de análoga eficacia.  <b>C. Sí, con las balizas encendidas, los triángulos de señalización de peligro y, en su caso, con las luces de posición.</b></p>
	<p>Un triángulo pintado en la calzada, ¿qué significa?</p> <p>A. Advierte de la proximidad de un peligro.  <b>B. La obligación de ceder el paso en el cruce.</b>  C. La prioridad de paso en el cruce.</p>
	<p>¿De qué depende en la circulación, la distancia a conservar entre su vehículo y el que va adelante?</p> <p>A. De la velocidad de ambos vehículos.  <b>B. De la velocidad de ambos vehículos y de las condiciones climáticas.</b>  C. Depende de una variedad de factores como el clima, la condición de la calle, el momento del día y el límite de velocidad establecido.</p>

	<p>¿Cuál es la velocidad máxima permitida en autopista, cuando no hay carteles que lo indiquen. Según la Ley 24.449?</p> <p>A. 60 km./h.  B. 80 km./h.  <b>C. 130 km./h.</b></p>
	<p>¿Quién tiene prioridad de paso en una rotonda?</p> <p><b>A. El vehículo que circula por la rotonda sobre el que intenta ingresar; y el vehículo que egresa sobre el que intenta ingresar o continúa circulando.</b>  B. El vehículo que quiere ingresar a la rotonda por sobre el que quiere egresar de la misma.  C. El vehículo que quiere ingresar a la rotonda sobre el que está circulando en la misma.</p>
	<p>Determine qué indica la señal que a continuación se presenta:</p> <p>A. Prohibición de estacionar.  <b>B. No estacionar ni detenerse.</b>  C. Estacionamiento exclusivo.</p>
	<p>Determine qué indica la señal que a continuación se presenta:</p> <p><b>A. Inicio de la doble circulación.</b>  B. Calzada dividida.  C. Camino sinuoso.</p>
	<p>Determine qué indica la señal que a continuación se presenta:</p> <p><b>C. Cruce de caminos.</b>  B. Puesto de emergencia.  C. Cruz de San Andrés.</p>
	<p>Determine qué indica la señal que a continuación se presenta:</p> <p>A. Contramano.  B. No avanzar.  <b>C. Pare.</b></p>
	<p>Determine qué indica la señal que a continuación se presenta:</p> <p>A. Contramano.  B. Rotonda.  <b>C. Puesto de control.</b></p>







Determine qué indica la señal que a continuación se presenta:

- A. Curva (común).
- B. Curva (en S).**
- C. Calzada dividida.



	<p>Para incorporarse a la circulación, ¿puede dar marcha atrás, si es necesario?</p> <p>A. Sí, es una de las maniobras en las que está permitido hacer marcha atrás.  B. Sí, pero sólo en vías urbanas.  <b>C. No, en ningún caso. La marcha atrás está prohibida.</b></p>
	<p>Cuando en una vía de doble sentido de circulación existe un refugio o isleta, ¿por qué parte de la calzada se debe circular?</p> <p><b>A. Por la parte de la calzada que queda a la derecha del refugio o isleta, únicamente.</b>  B. Por la parte de la calzada que queda a la izquierda del refugio o isleta, únicamente.  C. Por cualquiera de los dos lados.</p>
	<p>En caso de niebla, ¿es mejor parar en la banquina?</p> <p>A. Cuando la niebla es muy cerrada.  <b>B. Nunca, si no hay otra posibilidad, debe alejarse lo más posible de la calzada y de la banquina.</b>  C. Cuando la niebla no es muy cerrada.</p>
	<p>Las luces intermitentes de los vehículos, cuando se encienden y abarcan o comprenden las cuatro luces de giro se denominan luces intermitentes de emergencia (balizas) ¿Cuándo se deben utilizar?</p> <p>A. Para indicar que vamos a entrar a un garaje.  B. Cuando vamos a seguir derecho.  <b>C. Cuando vamos a parar y ello supone cierto peligro, o cuando hay algún riesgo en la vía.</b></p>
	<p>Cuando se deba cruzar la acera (vereda) para salir a la vía pública, ¿de quién se presume que es la responsabilidad, si se produce un accidente con un peatón u otro vehículo?</p> <p>A. Del peatón por no tomar la precaución al llegar a una salida de vehículos.  B. Del conductor del otro vehículo, por no tener cuidado.  <b>C. Del conductor del vehículo que sale a la vía pública.</b></p>
	<p>En algunas vías de tránsito, podemos encontrar marcas en el piso o bien carteles con signos similares a una V invertida, ¿qué significados tienen esos signos o marcas?</p> <p><b>A. Que estamos en una zona donde frecuentemente hay niebla.</b>  B. Que estamos en una zona de velocidad controlada (radar).  C. Que estamos en una zona que se inunda.</p>


	<p>Cuando se estaciona en proximidad de una esquina, ¿qué línea no se debe superar?</p> <p>A. La línea peatonal.  <b>B. La línea imaginaria de prolongación de ochava.</b>  C. La línea de edificación transversal.</p>
	<p>Con carácter general, cuando nos encontramos con una señal de PROHIBIDO ESTACIONAR ¿está permitido parar para subir o bajar pasajeros de un automóvil?</p> <p><b>A. Si</b>  B. No.  C. Según la hora.</p>
	<p>En la ciudad, ¿está permitido circular marcha atrás?</p> <p><b>A. Sólo para estacionar, entrar o salir de un garaje (cuando no hay otra posibilidad) o salvar un obstáculo.</b>  B. Cuando es por pocos metros.  C. Solamente de día.</p>
	<p>¿Qué distancia debe dejarse libre, cuando se va a estacionar frente a la entrada de hospitales, escuelas, templos, y otros organismos públicos?</p> <p><b>A. 10 metros de cada lado de la entrada.</b>  B. Debe dejarse todo el frente del edificio.  C. 5 metros de cada lado de la entrada.</p>
	<p>Si para adelantar debe invadir un carril reservado para colectivos y taxis, ¿le está permitido realizar la maniobra?</p> <p><b>A. No, porque está prohibido utilizar dicho carril para adelantar.</b>  B. Sí, cuando la línea longitudinal del lado exterior de este carril sea discontinua.  C. Sí, porque sólo se permite su utilización para realizar alguna maniobra.</p>
	<p>Todo vehículo debe estar cubierto por un seguro, ¿qué daños debe cubrir el mismo?</p> <p>A. Debe cubrir eventuales daños causados a terceros transportados únicamente.  B. Debe cubrir los daños causados a los vehículos únicamente.  C. <b>Debe cubrir eventuales daños causados a terceros transportados o no.</b></p>

	<p>Por norma general, las luces traseras de los vehículos deben ser de color rojo (de posición y freno) y amarillas (giros) ¿por qué la luz de marcha atrás debe ser blanca?</p> <p>A. Para diferenciarla de las luces de freno, de posición y de las luces de giro.  <b>B. Porque indica el sentido de circulación. La luz blanca significa que el vehículo circula en sentido contrario al nuestro.</b>  C. Para diferenciarla de las luces de freno, de posición y de las luces de giro; y debido a su color blanco se obtiene mejor visión cuando la maniobra de retroceso se deba realizar de noche o en condiciones de poca visibilidad.</p>
	<p>En materia de tránsito, entre lo que establece la reglamentación, lo que dicen las señales de tránsito y lo que indica la autoridad, ¿qué debemos cumplir?</p> <p><b>A. Lo que indica la autoridad, lo que dicen las señales de tránsito y/o lo que establecen las reglamentaciones, en ese orden.</b>  B. Lo que indica la Ley, lo que dicen las señales de tránsito y lo que indica la autoridad, en ese orden.  C. Lo que dicen las señales de tránsito, lo que indica la autoridad y lo que establecen las reglamentaciones, en ese orden.</p>
	<p>Determine qué indica la señal que a continuación se presenta:</p> <p>A. Proximidad de bosques.  B. Zonas de palmeras.  <b>C. Vientos fuertes laterales.</b></p>
	<p>Determine qué indica la señal que a continuación se presenta:</p> <p><b>A. Proyección de piedras.</b>  B. Zona de derrumbe.  C. Calzada resbaladiza.</p>
	<p>Determine qué indica la señal que a continuación se presenta:</p> <p>A. Camino sinuoso.  <b>B. Calzada resbaladiza.</b>  C. Curva y contracurva.</p>
	<p>Determine qué indica la señal que a continuación se presenta:</p> <p>A. Cruce de peatones.  B. Peatones a la izquierda.  <b>C. Prohibición de circular.</b></p>



Determine qué indica la señal que a continuación se presenta:

- A. Curva cerrada.
- B. Curva (común).**
- C. Calzada resbaladiza.



Determine qué indica la señal que a continuación se presenta:

- A. Puesto de control.
- B. Contramano.**
- C. No avanzar.